

ATIVIDADE PARA ESTUDO DOMICILIAR
11° SEMANA: 01º/06/2020 a 05/05/2020

Professor: Jéferson Pitol Righetto

Componente curricular: Geografia

Nível de ensino: Fundamental II

Turmas 711 e 712

HABILIDADES

Avaliar, por meio de exemplos extraídos dos meios de comunicação, ideias e estereótipos acerca das paisagens e da formação territorial do Brasil.

Analisar a influência dos fluxos econômicos e populacionais na formação socioeconômica e territorial do Brasil, compreendendo os conflitos e as tensões históricas e contemporâneas.

Aula de Revisão de Conteúdos

Data 02/06 Terça-feira

Hora: 09hs às 09:45

Regras

- Entrar na sala no horário
- Estar com as atividades das semanas anteriores
- Estar com caderno da disciplina
- Que inicialmente todos devem colocar seus nomes
- Câmera ligada
- Microfone desligado/ ligar para perguntar

AULA ONLINE

Link: <https://meet.google.com/gyn-qhkh-mzk>

Link para aula de 26/05: https://drive.google.com/file/d/1bNkxiT4Oth_VZPfg2l9GGhWuitKAXgK/view?usp=sharing

Leia e responda as atividades em seu caderno:

O Brasil na América

Com uma área territorial de mais de 42 milhões de km², a América é o segundo maior continente do planeta, superado apenas pela Ásia. O continente americano é formado por 35 países com grandes diferenças naturais, culturais e socioeconômicas e abriga aproximadamente 1 bilhão de habitantes, o que corresponde aproximadamente a 14% da população mundial.

O mapa apresenta uma das regionalizações do continente americano. Observe.

As três Américas




(ALLMAPS)


Fonte: GIRARDI, G.; ROSA, J. V. *Atlas geográfico*. São Paulo: FTD, 2016. p. 124.

Istmo: estreita faixa de terra que está localizada entre dois mares e faz a ligação entre duas grandes porções de terra.

1

 Em quais regiões o continente americano foi dividido? Qual foi o critério utilizado para criá-las?

2

 Em qual região o território brasileiro está localizado?

Agora, observe outra regionalização do continente americano.

América: divisão segundo a colonização predominante



(ALLMAPS)

Elaborado com base em: CALDINI, V.; ÍSOLA, L. Atlas geográfico Saraiva. São Paulo: Saraiva, 2013. p. 96.


A regionalização do continente americano em **América Latina** e **Anglo-saxônica** considera as características do processo de **colonização** e os aspectos culturais de cada região.

Colonização: processo de ocupação, dominação, povoamento e/ou exploração de determinada região.


A América Anglo-saxônica é assim chamada por ter sido colonizada principalmente por ingleses, que são de origem anglo-saxã. O inglês é a língua predominante. Nessa região também ocorreram colonizações espanhola e francesa.

A América Latina tem esse nome por ter sido colonizada principalmente por portugueses e espanhóis. As línguas oficiais são o português (no Brasil) e o espanhol, ambas de origem latina. Essa região também engloba países de colonização britânica, holandesa e francesa.

3

 Na regionalização apresentada no mapa **América: divisão segundo a colonização predominante**, em que região do continente americano está localizado o Brasil?

4

 Como a América Latina e a América Anglo-saxônica foram diferenciadas no mapa?